

## Kuvalaskut

1. Päättele mitä numeroa kuvat vastaavat ja ratkaise laskutehtävä (joka kuvaa vastaa eri numero).

 $+$  $=$  5


 $\times$  $=$  


 $-$  $=$  3


 $\times$   $=$  ?


Vastaus: \_\_\_\_\_

2. Päättele mikä luku vastaa kutakin kuvaa ja laske viimeinen laskutehtävä (joka kuvaa vastaa eri numero).


$$+ + + = 15$$


$$+ + + = 13$$


$$- - = 2$$


$$+ - = ?$$

Vastaus: \_\_\_\_\_

3. Päättele mikä luku vastaa kutakin kuvaa ja laske viimeinen laskutehtävä (joka kuvaa vastaa eri numero).

$$\text{avocado} + \text{avocado} + \text{avocado} = 30$$

$$\text{coffee cup} + \text{coffee cup} + \text{avocado} = 20$$

$$\text{cherries} + \text{cherries} + \text{coffee cup} = 13$$

$$\text{half avocado} + \text{coffee cup} \times \text{cherry} = ?$$

Vastaus: \_\_\_\_\_

**Vastaukset:**

1. 12
2. 6 (huomioi puolikkaat)
3. 15 (huomioi puolikkaat ja laskujärjestyks)