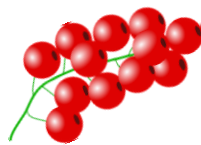

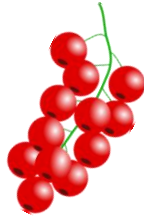


Mikä kuvista on pariton? Kuvien koko tai suunta voi vaihdella.



Mikä kuva esiintyy useammin kuin kahdesti? Kuvien koko tai suunta voi vaihdella.



Mitä kuvia ei ole parillista määrää? Huomioi, että muodostamasi kuvaparin/ryhmä kuvat ovat täysin samanlaiset (koko tai suunta voi vaihdella).



Vastaukset sivun alareunassa:

1. vadelma on pariton
2. mansikkaa on 3 kpl
3. vadelmia on 1 kpl, porkkanoita 3 (tai 7 jos lasketaan kaikki porkkanat yhteen) ja mustikoita (3 rypäs) on 5 kpl (tai 9 jos laskee myös 2 –sarjassa olevat mustikat) ja mansikkaa on 3 kpl (tai 7 kpl jos lasketaan kaikki mansikat yhteen)

Vastaukset: